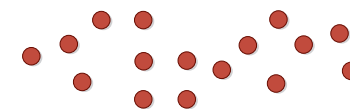


## حساب ناتج ضرب الكسور

## مسائل من الحياة اليومية

**الطبيعة:** محمية للحياة البرية يوجد بها 16 نمرًا. حوالي  $\frac{1}{3}$  هذه النمر من الذكور. ثُمّثل النمر قطع العد الواردة أدناه.



1. هل يمكنك تقسيم قطع العد إلى ثلاث مجموعات متساوية؟ اشرح.

لا: الإجابة النموذجية: يمكن تقسيم قطع العد إلى 5 مجموعات من أصل 3 مجموعات مع

مجموعة واحدة زائدة.

2. املأ مضاعفات العدد 3 على خط الأعداد. ضع نقطة عند العدد 16.



3. ما مضاعف العدد 3 الأقرب للعدد 16؟

4. الأسهم تقفز من 0 إلى 3 إلى 6. استمر في استخدام النمط. كم عدد القفزات من 0 إلى إجابتك الموجودة في التمرين 3؟

5

5. كم يبلغ تقريبًا عدد النمر الذكور في المحمية؟ اشرح.

5 نمر: الإجابة النموذجية: توجد 5 قطع عد في كل المجموعات الثلاث. إذاً، 5 تساوي حوالي  $\frac{1}{3}$  من 16.

ما المهارات الرياضية التي استخدمتها؟  
ظل الدائرة (الدوائر) التي تنطبق.

- |                           |                                |
|---------------------------|--------------------------------|
| ① البشارة في حل المسائل   | ⑤ استخدام أدوات الرياضيات      |
| ② التفكير بطريقة تجريدية  | ⑥ مراعاة الدقة                 |
| ③ بناء فرضية              | ⑦ الاستعادة من البنية          |
| ④ استخدام نماذج الرياضيات | ⑧ استخدام الاستنتاجات المتكررة |

## التركيز تضييق النطاق

الهدف احسب ناتج الضرب باستخدام الكسور.

## التربط المنطقي الربط داخل الصنف وبينها

## السابق

حل الطلاب مسائل تتضمن عمليتي ضرب وقسمة للأعداد الكلية والكسور العشرية.

## الحالي

يستخدم الطلاب التقريب أو عددين متوافقين لحساب ناتج ضرب الكسور.

## التالي

سيجري الطلاب عملية ضرب للكسور والأعداد الكلية.

## الدقة اتباع المفاهيم التمرس والتطبيق

انظر المخططات البيانية لمستويات الصعوبة في صفحة 261

المشاركة الاستكشاف الشرح التوضيح التقييم

## 1 بدء الدرس

## أفكار يمكن استخدامها

قد تود أن تبدأ الدرس باستخدام مجموعة كاملة أو مجموعة صغيرة أو نشاط "فكر - اعمل في ثنائيات - شارك" أو نشاط مستقل.

**LA تبادل المسائل** اطلب من الطلاب الانتظام في مجموعات ثنائية لتبادل مسألتهم الخاصة التي تتضمن جزءًا كسريًا لعدد كلي. ويتم تبادل المسائل بين المجموعات الثنائية لحل كل مجموعة ثنائية مسائل المجموعة الأخرى. ثم تُقارن الحلول. إذا لم تتفق الحلول، فسيتعاون الطلاب معًا لاكتشاف الأخطاء. 1, 4, 7

## الاستراتيجية البديلة

**AL** اطلب من الطلاب كتابة كسور الوحدة بداية من  $\frac{1}{2}$  in. إلى  $\frac{1}{10}$  in. في عمود واحد على قطعة من الورق. ثم اطلب منهم كتابة المضاعفات العشرة الأولى للمقامات بجوار الكسور. يمكنهم استخدام قائمة الأعداد المتوافقة للملائمة للدرس. 1, 6, 7



## أمثلة

3. احسب بالتقريب إلى 0،  $\frac{1}{2}$ ، أو 1.

- **AL** لماذا يتم تقريب  $\frac{1}{3}$  إلى  $\frac{1}{2}$ ؟  $\frac{1}{3}$  أقرب إلى  $\frac{1}{2}$  على خط الأعداد عن 0 أو 1
- لماذا يتم تقريب  $\frac{7}{9}$  إلى 1؟  $\frac{7}{9}$  أقرب إلى 1 على خط الأعداد من 0 أو  $\frac{1}{2}$
- **OL** لماذا يسهل استخدام 0،  $\frac{1}{2}$ ، و 1 كأعداد مقربة؟ يسهل الضرب باستخدام أعداد القيم المرجعية هذه.

• **BL** الإجابة الفعلية للمثال 3 هي  $\frac{7}{27}$ . ما مدى دقة حساب الإجابة الفعلية؟

اشرح. الإجابة النموذجية: الحساب غير دقيق تماماً حيث إنه ضعف الإجابة الفعلية تقريباً.

هل تحتاج لمثال آخر؟

احسب  $\frac{4}{5} \times \frac{1}{6}$  الإجابة النموذجية:  $1 \times 0 = 0$

4. احسب بالتقريب إلى 0،  $\frac{1}{2}$ ، أو 1

- **AL** ما ناتج ضرب 0 وأي عدد؟ 0
- **OL** أعط أمثلة لكسرين سيقربان إلى 1؟ راقب عمل الطلاب.
- **BL** بدون استخدام خط الأعداد، اشرح كيف ستتمكن من تقريب كسر إلى  $\frac{1}{2}$ . الإجابة النموذجية: إذا كان البسط أقرب إلى نصف المقام، فترّب إلى  $\frac{1}{2}$

هل تحتاج لمثال آخر؟

احسب  $\frac{7}{8} \times \frac{2}{3}$  الإجابة النموذجية:  $1 \times \frac{1}{2} = \frac{1}{2}$

## المفهوم الرئيسي

الحساب بالتقريب إلى 0 أو  $\frac{1}{2}$  أو 1

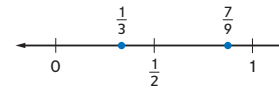
**الشرح** إذا كان بسط الكسر الذي يتراوح بين 0 و 1 كبيراً كالمقام، فيجب التقريب لأكبر عدد صحيح. إذا كان البسط أصغر من المقام بكثير، فيجب التقريب لأصغر عدد صحيح.

**أمثلة**  $\frac{7}{8}$  يُقرب إلى 1،  $\frac{1}{8}$  يُقرب إلى 0

يمكن أن يساعد تقريب الكسور إلى عدد صحيح في إيجاد ناتج عوامل الكسور.

## أمثلة

3. احسب بالتقدير  $\frac{7}{9} \times \frac{1}{3}$ .



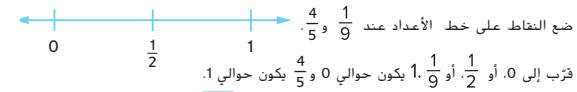
تقرب إلى 0، أو  $\frac{1}{2}$ ، أو  $\frac{1}{3}$ . 1. يكون حوالي  $\frac{1}{2}$  و  $\frac{7}{9}$  يكون حوالي 1.

$$\frac{1}{3} \times \frac{7}{9} \rightarrow \frac{1}{2} \times 1$$

$$\frac{1}{2} \times 1 = \frac{1}{2}$$

إذا ناتج  $\frac{1}{3} \times \frac{7}{9}$  يكون حوالي  $\frac{1}{2}$ .

4. احسب بالتقدير  $\frac{4}{5} \times \frac{1}{9}$ .



تقرب إلى 0، أو  $\frac{1}{2}$ ، أو  $\frac{1}{9}$ . 1. يكون حوالي 0 و  $\frac{4}{5}$  يكون حوالي 1.

$$\frac{1}{9} \times \frac{4}{5} \rightarrow 0 \times 1 = 0$$

إذا  $\frac{1}{9} \times \frac{4}{5}$  يكون حوالي 0.

تأكد من فهمك أو جد حلولاً للمسائل التالية لتتأكد أنك فهمت.

قدر كل ناتج ضرب.

d.  $\frac{5}{8} \times \frac{9}{10}$

e.  $\frac{5}{6} \times \frac{9}{10}$

f.  $\frac{5}{6}$  من  $\frac{1}{9}$

نماذج الإجابات المقدمة.

d.  $\frac{1}{2} \times 1 = \frac{1}{2}$

e.  $1 \times 1 = 1$

f.  $1 \times 0 = 0$

## مثال

5. قسمة الكسور على أعداد كلية.

AL • ما الشكل الذي يأخذه حوض الأزهار؟ **مستطيل**

• كيف نجد مساحة المستطيل؟ **اضرب الطول في العرض.**

OL • اشرح كيف يمكنك حساب مساحة حوض الأزهار. **قرب  $\frac{7}{8}$  إلى 15 و  $\frac{1}{8}$  إلى 6، ثم اضرب.**

BL • اكتب مسألة كلامية ستحتاج إليها لحساب ناتج ضرب العدد  $12\frac{3}{4}$  و  $5\frac{7}{8}$ . **راقب**

**عمل الطلاب.**

**هل تحتاج لمثال آخر؟**

احسب مساحة مربع يبلغ طول ضلعه  $6\frac{7}{8}$  من اليوصات. **الإجابة النموذجية:**

$$7 \text{ in.} \times 7 \text{ in.} = 49 \text{ in}^2$$

## تمرين موجّه

**التقييم التكويني** استخدم هذه التمارين لتقييم استيعاب الطلاب للمفاهيم الواردة في هذا الدرس.

إذا كان بعض من طلابك غير مستعدين لإنجاز الواجبات، فاستخدم الأنشطة التمييزية الواردة أدناه.



LA AL **مراجعة ثنائية** اطلب من الطلاب العمل في مجموعات ثنائية لإكمال

التمارين 1-4. يجب أن يحل أحد الطلاب باستخدام الرسم البياني بينما يحل الطالب الآخر التمرين. بعد كل تمرين، يقرن الطلاب إجاباتهم ويناقشون أي اختلافات. ثم يتبادلون الأدوار لحل التمرين التالي. 1, 4

LA BL **مناقشة ثنائية** اطلب من الطلاب العمل في مجموعات ثنائية لتوسيع فكرة

التقريب لتتضمن  $\frac{1}{4}$  و  $\frac{3}{4}$ . اطلب منهم مناقشة حلولهم مع مجموعة ثنائية أخرى من الطلاب وتناول أي اختلافات. 1, 6, 7

## مثال



5. احسب بالتقدير مساحة حوض الزرع.

قرب كل عدد كسري إلى أقرب عدد صحيح.

$$14\frac{7}{8} \times 6\frac{1}{8} \rightarrow 15 \times 6 = 90$$

إذا المساحة تكون حوالي 90 قدمًا مربعًا.



$6\frac{1}{8}$  ft

$14\frac{7}{8}$  ft



## تمرين موجّه

إجابات نموذجية: 1-7

قدّر كل ناتج ضرب. استخدم رسمًا بيانيًا بالأهمدة إذا لزم الأمر. (الأهمدة م 4-1)

1.  $\frac{1}{8} \times 15 \approx \frac{1}{8} \times 16 = 2$



2.  $\frac{2}{5} \times 26 \approx \frac{2}{5} \times 25 = 10$



3.  $\frac{1}{5} \times \frac{8}{9} \approx 0 \times 1 = 0$

4.  $6\frac{2}{3} \times 4\frac{1}{5} \approx 7 \times 4 = 28$

5. حائط حدودي يتكون من  $32\frac{2}{3}$  لوحًا أسبنتيًا يبلغ طوله  $1\frac{1}{6}$  قدم (ft). تقريبًا كم يبلغ طول الحائط الحدودي؟ (مثال 5)

$$33 \times 33 \text{ قدمًا (ft)}$$

6. تبلغ مفاصات البطيخ  $24\frac{1}{6}$  أقدام (ft) في  $9\frac{2}{3}$  أقدام (ft). قدر مساحة البطيخ. (مثال 5)

$$2,400 \text{ ft}^2 \text{ أو } 24 \text{ ft} \times 10 \text{ ft}$$

## قيم نفسك!

ما مدى فهمك لموضوع تقدير ناتج ضرب الكسور؟ ظلل المربع المناسب.



7. **الاستفادة من السؤال الأساسي** لماذا يُعد تقدير ناتج ضرب الكسور مفيدًا؟

يساعد التقدير في إجراء الحساب ذهنيًا وتحديد مدى إمكانية إنتاج الإجابات.

## 3 التمرين والتطبيق

## التمارين الذاتية والتمارين الإضافية

تم إعداد صفحات تمارين مستقلة بهدف استخدامها كواجب منزلي. يمكن استخدام صفحة التمرين الإضافي للتقوية الإضافية أو كواجب لليوم الثاني.

## مستويات الصعوبة

مستويات تقدم التمارين من 1 إلى 3، حيث يشير المستوى 1 إلى أقل مستوى من الصعوبة.

## تمارين

تمارين	المستوى 3	المستوى 2	المستوى 1
11-13	●		
7-10, 25, 26		●	
1-6, 14-24	●	●	●

## الواجبات المقترحة

يمكنك استخدام الجدول أدناه الذي يحتوي على تمارين لكل مستويات الصعوبة لتحديد التمارين الملائمة لاحتياجات طلابك.

## خيارات الواجب المنزلي المتميزة

خيارات الواجب المنزلي المتميزة	قريب من المستوى	AL
1-7, 9, 11, 13, 25, 26	قريب من المستوى	AL
7-11, 13, 25, 26	ضمن المستوى	OL
1-5 فردي, 7-11, 13, 25, 26	ضمن المستوى	OL
7-13, 25, 26	أعلى من المستوى	BL



**خطأ شائع** في تمرين 5، قد يخطئ بعض الطلاب في الكلمة حول في المسألة. دكر الطلاب بقراءة المسألة بعناية. تشير الكلمة حول إلى حساب الإجابة.

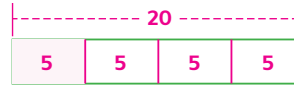
## الدرس 1 حساب ناتج ضرب الكسور 257

## تمارين ذاتية

قدر كل ناتج ضرب. استخدم رسمًا بيانيًا بالأعمدة إذا لزم الأمر. (الأمثلة 1-4)

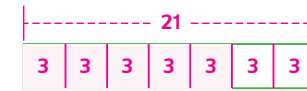
إجابات نموذجية: 1-5

$$1. \frac{1}{4} \times 21 \approx \frac{1}{4} \times 20 = 5$$



$$4. 4\frac{1}{3} \times 2\frac{3}{4} \approx 1 \times 0 = 0$$

$$2. \frac{5}{7} \text{ من } 22 \approx \frac{1}{7} \times 21 = 3; 3 \times 5 = 15$$



$$3. \frac{5}{7} \times \frac{1}{9} \approx 4 \times 3 = 12$$

6. تبلغ مساحات الرواق الأمامي لمنزل حكيم  $9\frac{3}{4}$  أقدام (ft) في 4 أقدام (ft). قدر مساحة هذه الرواق الأمامي. (مثال 5)

$$40 \text{ ft}^2 \text{ أو } 10 \text{ ft} \times 4 \text{ ft}$$

5. يعززم نايف دعوة 11 صديقًا له لتناول البيتزا. يود أن يكون لديه ما يكفي من البيتزا بحيث يمكن لكل صديق تناول  $\frac{1}{4}$  من البيتزا. كم عدد قطع البيتزا تقريبًا التي ينبغي عليه أن يطلبها؟ (مثال 5)

$$3 \times \frac{1}{4} = 12 \text{ قطعة بيتزا}$$

7. استخدام نماذج الرياضيات انظر الإطار المصور الرسومي التالي للتمرينين a و b.



a. إذا كان كل كيس يحتوي على  $3\frac{3}{4}$  أرطال (lb)، فاحسب بالتقدير عدد أرطال طعام الطيور المنزلية التي اشتراها أحمد وعمر وعلي. حوالي 20 lb

b. افترض أن كل كيس يتكلف AED 14.99، قدر التكلفة الإجمالية للأكياس الخمسة. حوالي 75 AED



## تمرين إضافي

قدّر ناتج ضرب كل مما يلي. استخدم رسمًا بيانيًا بالأعمدة إذا لزم الأمر.

إجابات نموذجية: 14-21

$$14. \frac{1}{5} \times 26 \approx \underline{5}$$

$$26 \approx 25; \frac{1}{5} \times 25 = \frac{5}{1} = 5 \text{ أو } 5$$

$$16. \frac{1}{6} \times 17 \approx \underline{\frac{2}{9} \times 90 = 20}$$

$$18. \frac{2}{3} \times 10 \approx \underline{\frac{2}{3} \times 9 = 6}$$

$$15. \frac{1}{3} \times 41 \approx \underline{14}$$

$$41 \approx 42; \frac{1}{3} \times 42 = \frac{14}{1} = 14$$

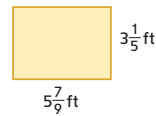
$$17. \frac{2}{9} \times 88 \approx \underline{\frac{1}{6} \times 18 = 3}$$

$$19. \frac{3}{8} \times 4 \approx \underline{\frac{1}{2} \times 4 = 2}$$

مساعد  
الواجب  
المنزلي

قدّر مساحة كل مستطيل.

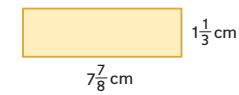
$$20. \underline{6 \times 3 = 18 \text{ ft}^2}$$



23. يعكف فيد على تنظيم مجموعة الأفلام لديه.. ويكتشف

أن  $\frac{5}{8}$  من الأفلام لديه هي أفلام حركة. إذا كان لديه 46 فيلمًا، فكم تقريبًا عدد أفلام الحركة؟ **23 فيلمًا**

$$21. \underline{8 \times 1 = 8 \text{ cm}^2}$$



22. عائشة نود الانتهاء من قراءة  $\frac{2}{5}$  من كتابها

بحلول الجمعة القادمة. إذا كان عدد صفحات الكتاب 203 صفحات، فكم عدد الصفحات تقريبًا التي تحتاج إلى قراءتها؟ **الإجابة النموذجية:  $\frac{2}{5} \times 200 = 80$  صفحة**

24. **تحرير الاستنتاجات** علي لديه مجموعة من 38 قطعة عملة معدنية فئة الربع درهم.

إذا كانت  $\frac{3}{5}$  من العملات المعدنية التي يمتلكها بتاريخ 2005، فما القيمة التقريبية للعملات المعدنية منذ 2005؟ اشرح إجابتك لأحد الأصدقاء.

$$\underline{40 \times \frac{3}{5} = 24; 38 \approx 40; 4 \text{ عملات معدنية} = \text{AED } 1; \text{إذًا، } 24 \text{ قطعة معدنية} = \text{AED } 6.}$$



## انطلق! تمهين على الاختبار

يساعد التمرينان 25 و26 على تهيئة الطلاب لتفكير أكثر دقة، الأمر الذي يتطلبه التقويم.

25. تُلزم فقرة الاختبار هذه الطلاب أن يشرحوا المفاهيم الرياضية ويطبقوها ويحلوا المسائل بدقة، مع الاستفادة من البنية.

عمق المعرفة	DOK1
ممارسة رياضية	م.ر. 1
<b>معايير رصد الدرجات</b>	
درجة واحدة	أجاب الطلاب عن السؤال إجابة صحيحة.

26. تُلزم فقرة الاختبار هذه الطلاب أن يشرحوا المفاهيم الرياضية ويطبقوها ويحلوا المسائل بدقة، مع الاستفادة من البنية.

عمق المعرفة	DOK1
ممارسة رياضية	م.ر. 1
<b>معايير رصد الدرجات</b>	
درجة واحدة	أجاب الطلاب عن السؤال إجابة صحيحة.


## انطلق! تمهين على الاختبار

25. يوضح الجدول عدد الطلاب في الصفوف الدراسية من السادس إلى الثامن الذين زاروا متحفًا محليًا. من هؤلاء الطلاب، قام ما بين نصف وثلاثة أرباع الطلاب بتجهيز وجبة غدائهم. أي من الخيارات الآتية يمكن أن تمثل عدد الطلاب الذين قاموا بتجهيز وجبة غدائهم؟

الطلاب الذين يزورون المتحف	
الصف	عدد الطلاب
6	45
7	48
8	40

أقل من 70     بين 70 و100     بين 100 و130     أكثر من 130

26. قَدِّر مساحة المستطيل الموضح على اليسار. **الإجابة النموذجية:**



## مراجعة شاملة

قرب كل كسر إلى 0،  $\frac{1}{2}$ ، أو 1.

27.  $\frac{7}{12} \approx \frac{1}{2}$     28.  $\frac{5}{6} \approx 1$     29.  $\frac{2}{11} \approx 0$     30.  $\frac{4}{9} \approx \frac{1}{2}$

31. ارسم بيانًا  $\frac{2}{3}$ ،  $\frac{1}{4}$ ،  $\frac{1}{3}$ ، و  $\frac{3}{4}$ .  
32. ارسم بيانًا  $\frac{7}{10}$ ،  $\frac{2}{5}$ ،  $\frac{4}{5}$ ، و  $\frac{5}{10}$ .



33. جاسم يريد طلاء أحد جدران غرفته. إذا كان عرض الجدار يبلغ 12 قدمًا (ft) وطوله يبلغ 10 أقدام (ft)، فما مساحة الجدار؟ **120 قدمًا مربعًا (ft)**